




5. 다음 자료는 행사 기획서의 일부이다. 이에 대한 설명으로 옳은 것은? (단, A~C는 각각 불교, 이슬람교, 크리스트교 중 하나임.) [1.5점]

☐ 행사명: 종교적 의미를 담은 음식 맛보기 체험
 ☐ 행사 목적: ㉠ 문화 상대주의적 태도 함양
 ☐ 체험 음식 소개

음식	종교적 의미
 <유미죽>	A 신자는 석가모니가 보리수 아래에서 깨달음을 얻은 날을 기념하며 유미죽을 즐겨 먹는다. 유미죽은 석가모니가 수행 중에 먹은 음식으로 깨달음의 의미를 담고 있다.
 <달걀>	B 신자는 예수가 십자가에 못 박혔다가 부활한 날을 기념하며 다른 사람들과 달걀을 나눈다. 달걀은 생명이 알을 깨고 나와 새롭게 탄생한다는 부활의 의미를 담고 있다.
 <대추야자>	C 신자는 라마단 기간에 해가 진 뒤 대추야자를 먹는다. 대추야자는 무함마드가 이프타르*로 가장 먼저 먹은 음식이며, 감사와 절제의 의미를 담고 있다. *이프타르: 해가 진 뒤 금식을 마치고 먹는 첫 번째 식사

- ㉠은 문화의 우열을 평가할 수 있다고 본다.
- A의 대표적 경관은 탑과 불상이다.
- B는 하루 다섯 번 메카를 향해 기도하는 규율이 있다.
- C는 남부 아시아에서 기원하였다.
- 아메리카 문화권에서는 A가 B보다 신자 수가 많다.

6. 사회 복지 제도 A~C에 대한 설명으로 옳은 것은? (단, A~C는 각각 공공 부조, 사회 보험, 사회 서비스 중 하나임.) [2점]

교사: 우리나라 사회 복지 제도 A~C에 해당하는 제도 중 노인의 인간다운 삶을 지원하기 위한 제도를 말해 볼까요?

A에 해당하는 제도에는 65세 이상 노인 중 소득 인정액이 일정 수준 이하인 사람에게 연금을 지급하여 생활 안정을 지원하는 제도가 있습니다.

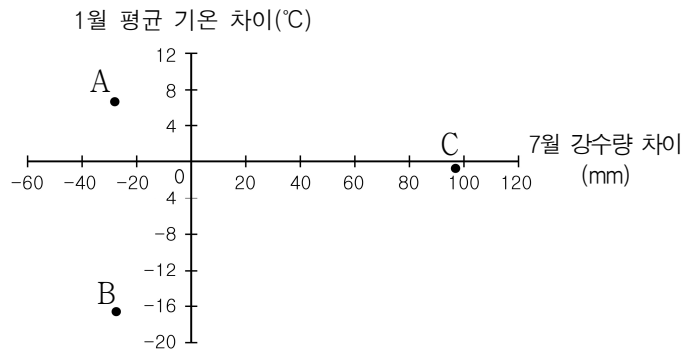
B에 해당하는 제도에는 노령, 장애, 사망 시 본인 또는 가족에게 연금 급여를 제공하여 기본 생활을 유지할 수 있도록 하는 제도가 있습니다.

C에 해당하는 제도에는 일상생활 영위가 어려운 취약 노인에게 적절한 돌봄 서비스를 제공하여 안정적인 노후 생활을 보장하는 제도가 있습니다.

교사: 세 학생 모두 옳게 말했네요.

- A와 달리 B는 수혜자 비용 부담 원칙이 적용된다.
- B와 달리 C는 사전 예방적 성격을 지닌다.
- C와 달리 A는 사회 계층의 양극화 완화에 기여한다.
- A는 보편적 복지 이념, B는 선별적 복지 이념을 바탕으로 한다.
- A, B, C는 모두 금전적 지원을 원칙으로 한다.

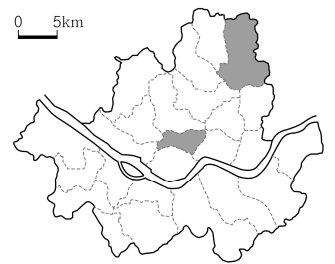
7. 그래프는 지도에 표시된 세 지역과 런던 간의 기후 값 차이를 나타낸 것이다. A~C 지역에 대한 설명으로 옳은 것은? [2.5점]



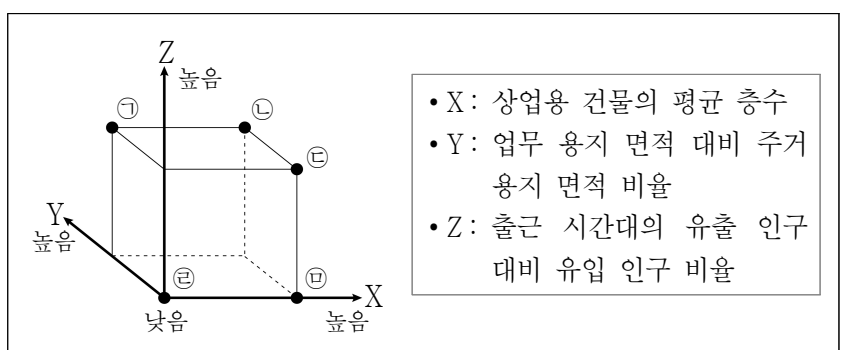
- A의 주민들은 전통적으로 순록 유목이나 수렵 활동을 한다.
- B에서는 올리브 등을 재배하는 수목 농업이 이루어진다.
- C는 런던보다 기온의 연교차가 작다.
- C는 A보다 계절풍의 영향을 많이 받는다.
- A, B, C는 모두 온대 기후 지역에 속한다.

8. 다음 자료는 지도에 표시된 서울의 두 구(區)에 대한 특성을 나타낸 것이다. (가)와 비교한 (나)의 상대적 특성을 그림의 ㉠~㉣에서 고른 것은? [2.5점]

구분	구	(가)	(나)
사업체 수(개)		37,442	76,129
초등학생 수(명)		25,841	4,990
주간 인구(명)		434,895	380,224
상주인구(명)		504,411	118,450



출처: 서울특별시(2020)



- ㉠
- ㉡
- ㉢
- ㉣
- ㉤

9. 다음 자료에 대한 설명으로 옳은 것은? [2점]

갑은 자신이 운영하는 정신병원에 한의과 진료 과목을 추가로 설치·운영하고자 하였다. 그러나 ○○법 조항이 한의과 진료 과목을 추가로 설치·운영할 수 있는 의료기관으로 병원, 치과 병원, 종합병원만 규정하고 정신병원은 규정하고 있지 않아 자신의 정신병원에 한의과 진료 과목을 추가로 설치·운영할 수 없었다. 이에 갑은 ○○법 조항이 자신의 ㉠ 평등권을 침해한다며 헌법재판소에 (가) 을/를 청구하였다. 헌법 재판소는 병원, 치과병원, 종합병원을 운영하는 자와 정신 병원을 운영하는 자를 달리 취급하는 데에 합리적인 이유가 없다고 판단하였다.

- ① ㉠은 다른 기본권 보장을 위한 수단적 권리이다.
- ② ㉠은 기본권 제한의 요건과 한계를 준수하더라도 제한할 수 없다.
- ③ (가)는 법원이 국회를 견제할 수 있는 수단이다.
- ④ (가)는 공권력에 의한 기본권 침해 여부를 판단하는 제도이다.
- ⑤ 헌법재판소는 해당 심판 조항이 갑의 ㉠을 침해하지 않는다고 판단하였다.

10. (가)의 갑, 을 사상가들의 입장을 (나) 그림으로 탐구하고자 할 때, A~C에 해당하는 적절한 질문만을 <보기>에서 있는 대로 고른 것은? [2.5점]

(가)	<p>갑: 정의의 원칙은 무지의 베일 속에서 선택된다. 그 결과, 원칙들을 선택할 때 타고난 재능이나 사회적 여건의 우연적 요소로 인해 그 누구도 유리하거나 불리해지지 않는다는 점이 보장된다.</p> <p>을: 한 사람의 소유물은 취득과 이전에서의 정의의 원리 또는 불의의 교정의 원리에 의해 소유 권리를 부여받았으면, 정당한 것이다. 각 개인의 소유물이 정당하다면, 소유물의 전체 집합도 정당하다.</p>
(나)	

<보 기>

ㄱ. A: 분배의 공정성은 절차적 정의를 통해 실현될 수 있는가?
 ㄴ. A: 천부적 재능에 따른 분배는 정의의 원칙에 어긋날 수 있는가?
 ㄷ. B: 경제적 불평등은 모든 사람에게 이익이 되어야 정당화될 수 있는가?
 ㄹ. C: 개인은 자유롭게 양도받은 모든 재화에 대해 정당한 소유 권리를 갖는가?

- ① ㄱ, ㄴ
- ② ㄱ, ㄹ
- ③ ㄷ, ㄹ
- ④ ㄱ, ㄴ, ㄷ
- ⑤ ㄴ, ㄷ, ㄹ

11. 다음 자료에 대한 적절한 설명만을 <보기>에서 고른 것은?

[1.5점]

지도에 표시된 국가 A는 1930년 영국의 식민지였습니다. 당시 영국은 이 국가를 경제적으로 통제하고자 소금법에 따라 소금에 높은 세금을 부과하고, 소금을 반드시 영국으로부터 수입하도록 하였습니다. 이에 간디는 수백 킬로미터를 도보로 행진하며 소금법의 부당함을 알렸습니다. 이 소금 행진은 ㉠ 시민불복종의 사례라고 볼 수 있습니다.

<보 기>

ㄱ. A는 전 세계에서 힌두교 신자 수가 가장 많은 국가이다.
 ㄴ. A의 주민 대부분은 종교적 율법에 따라 할랄 음식만 먹는다.
 ㄷ. ㉠은 개인만의 이익이 아닌 공공의 이익을 위한 것이어야 한다.
 ㄹ. ㉠은 부정의한 법과 정책을 바로잡기 위한 합법적인 행위이다.

- ① ㄱ, ㄴ
- ② ㄱ, ㄷ
- ③ ㄴ, ㄷ
- ④ ㄴ, ㄹ
- ⑤ ㄷ, ㄹ

12. 밑줄 친 ㉠~㉣에 대한 설명으로 옳지 않은 것은? [2점]

- 사상가 ㉠같은 폭력을 세 가지로 구분한다. 그것은 신체나 정신에 직접 해를 가하는 직접적 폭력, 사회 제도나 구조에 내재하여 억압과 착취를 반복하는 구조적 폭력, 그리고 이러한 폭력들을 정당화하는 문화적 폭력이다. 그는 진정한 평화란 단순히 직접적 폭력이 없는 상태가 아니라, 구조적 폭력과 문화적 폭력까지 모두 제거된 상태라고 주장한다.
- ㉡열대 기후 지역에 속한 서아프리카의 ○○국은 세계 최대 ㉢카카오 생산국이다. 그러나 그 이면에는 넓은 농장에서 대규모로 카카오를 재배하는 과정에서 발생하고 있는 ㉣아동 노동 착취 문제가 깔려 있다. 이러한 문제는 아동 노동을 가정 생계의 일부로 인식하는 사회적 관행과 국가의 무관심 속에서 그 심각성이 더 커지고 있다. 따라서 카카오 생산과 소비 전 과정에서 우리의 책임 있는 행동이 요구된다.

- ① ㉠은 직접적 폭력의 제거가 진정한 평화 실현을 보장한다고 본다.
- ② ㉡은 대체로 기온의 일교차가 기온의 연교차보다 크다.
- ③ ㉠에 따르면 ㉣은 문화적 폭력의 양상만을 띠는 것은 아니다.
- ④ ㉢은 ㉡에서 주로 플랜테이션으로 재배된다.
- ⑤ 공정무역과 윤리적 소비의 실천은 ㉣ 해결에 기여할 수 있다.

13. 다음 자료에 대한 분석 및 추론으로 옳은 것은? (단, A~C는 각각 정기 예금, 주식, 채권 중 하나이며, 각 금융 상품의 일반적인 특징을 가짐.) [2.5점]

<표 1>은 t시점에 금융 상품 A~C로 구성된 갑의 자산 포트폴리오 구성 비율과 기대할 수 있는 수익을, <표 2>는 t+1 시점에 예측되는 경제 지표의 변화를 나타낸 것이다. 갑은 투자 수익을 극대화하기 위해 <표 2>를 바탕으로 t시점 투자를 통해 얻은 수익금과 원금 전액을 t+1 시점에 재투자하여 A~C의 자산 포트폴리오 구성 비율을 조정하려고 한다.

<표 1>


금융 상품		A	B	C
구성 비율(%)		50	30	20
기대할 수 있는 수익	이자 수익	있음	없음	있음
	시세 차익	없음	있음	있음
	배당 수익	없음	있음	없음

<표 2>

경제 지표	물가	금리
예측되는 변화	㉠	㉡

- ① A는 B보다 수익성이 높은 금융 상품이다.
- ② A와 달리 C는 예금자 보호 제도의 적용 대상이다.
- ③ 만기가 있는 금융 상품의 구성 비율과 만기가 없는 금융 상품의 구성 비율은 같다.
- ④ ㉠이 '상승'이면 C에서 기대할 수 있는 수익의 실질 구매력이 증가할 것이다.
- ⑤ ㉡이 '하락'이면 갑은 A의 구성 비율을 낮추고 B의 구성 비율을 높일 것이다.

14. 밑줄 친 ㉠~㉢에 대한 옳은 설명만을 <보기>에서 있는 대로 고른 것은? [2점]



이폴리트 르콩트의 <로한 거리의 전투>에서 군중 사이에 있는 삼색기의 과란색은 자유, 흰색은 평등, 빨간색은 박애를 상징한다. 이를 핵심 가치로 삼아 카렐 바사크는 인권이 확장되어 온 역사적 과정을 자유권 중심의 ㉠ 1세대 인권, 사회권 중심의 ㉡ 2세대 인권, 연대권 중심의 ㉢ 3세대 인권으로 구분하였다.

<보 기>

㉠. ㉠의 확립 과정을 탐구하기 위한 사례로 영국의 명예혁명을 들 수 있다.

㉡. ㉡의 보장을 위해 국가의 적극적인 개입이 요구된다.

㉢. ㉢은 개인과 국가를 넘어선 전 지구적 차원의 권리이다.

- ① ㉠ ② ㉡ ③ ㉠, ㉡ ④ ㉡, ㉢ ⑤ ㉠, ㉡, ㉢

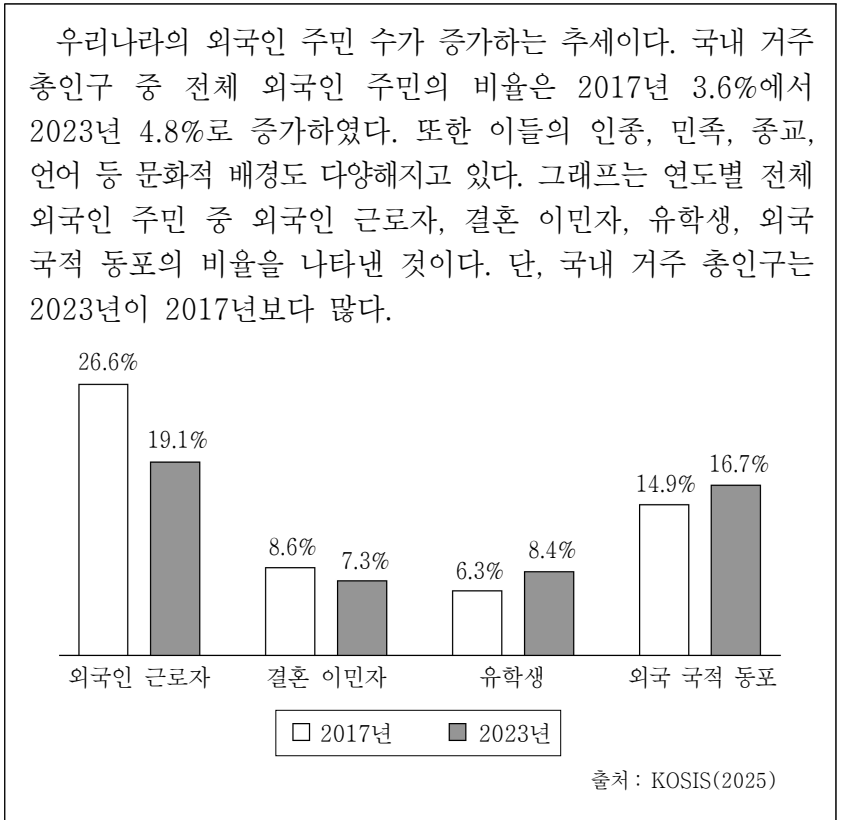
15. 문화 변동 사례 (가), (나)에 대한 설명으로 옳은 것은? [1.5점]

(가) 갑국 ○○시에서는 새해 첫날 갑국 전통 축제가 열리는데, 을국에서 이주해 온 근로자들도 함께 즐긴다. 이들 이주 근로자들은 ○○시에서 을국 전통 축제를 5월마다 개최하는데, 가족과 이웃의 행복을 기원하는 종교 의식과 전통 놀이 및 음식 체험에 ○○시 주민들도 참여한다.

(나) 을국에서는 온라인 동영상 플랫폼을 통해 알려진 갑국의 음악과 드라마가 젊은 세대를 중심으로 유행하였다. 가사나 대사 등을 따라하면서 갑국 언어에 대한 관심도 높아졌다. 갑국 언어를 가르치는 교습소도 생겨나 갑국 언어를 배우는 사람들도 많아졌다.

- ① (가)에는 간접 전파에 의한 문화 변동이 나타나 있다.
- ② (가)에는 문화 병존이 나타나 있다.
- ③ (나)에는 자극 전파에 의한 문화 변동이 나타나 있다.
- ④ (나)에는 문화 동화가 나타나 있다.
- ⑤ (가)와 달리 (나)에는 외재적 문화 변동이 나타나 있다.

16. 다음 자료에 대한 옳은 분석 및 추론만을 <보기>에서 고른 것은? [2.5점]



<보 기>

㉠. 2017년에는 외국인 근로자 수가 유학생 수의 4배보다 많다.

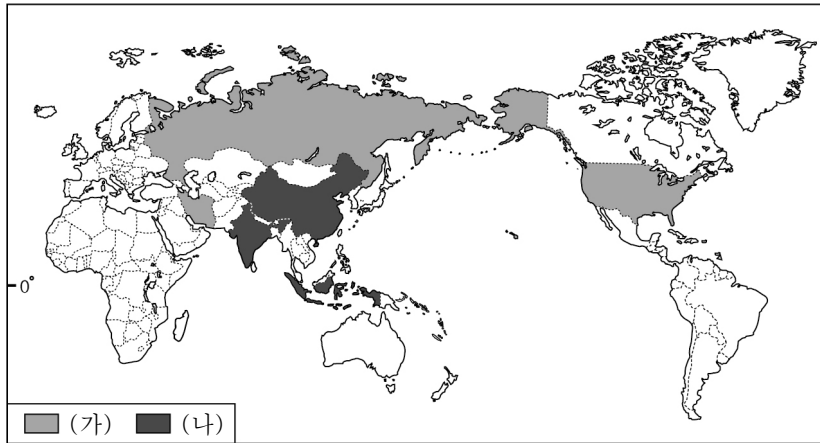
㉡. 결혼 이민자 수는 2023년이 2017년보다 적다.

㉢. 2017년 대비 2023년 외국 국적 동포 수의 증가율은 전체 외국인 주민 수의 증가율보다 크다.

㉣. 문화 간 차이로 인한 사회적 갈등 발생 가능성은 2017년이 2023년보다 높다.

- ① ㉠, ㉡ ② ㉠, ㉢ ③ ㉡, ㉣ ④ ㉡, ㉣ ⑤ ㉢, ㉣

17. 지도는 두 화석 에너지 각각의 생산량 상위 3개 국가를 나타낸 것이다. (가), (나)에 대한 설명으로 옳은 것은? (단, (가), (나)는 각각 석탄, 천연가스 중 하나임.) [2점]



출처: BP(2023)

- ① (가)는 냉동 액화 기술의 발달로 소비량이 급증하였다.
- ② (가)는 산업 혁명 이후 증기 기관의 연료로 사용되었다.
- ③ (나)는 육상 구간 수송 시 주로 파이프라인이 이용된다.
- ④ (가)는 (나)보다 연소 시 대기 오염 물질의 배출량이 많다.
- ⑤ (나)는 (가)보다 제철 공업에 사용되는 비율이 낮다.

18. (가)의 갑, 을 사상가들의 입장에서 서로에게 제기할 수 있는 비판을 (나) 그림으로 표현할 때, A, B에 해당하는 내용으로 가장 적절한 것은? [2.5점]

(가)	<p>갑: '나는 생각한다. 그러므로 나는 존재한다.'라는 명제는 반드시 참일 수밖에 없다. 이 명제를 통해 확인되듯이 인간의 정신과 육체는 서로 독립된 실체로 존재한다. 따라서 사유 능력이 없는 동물은 정교하게 설계된 기계와 다를 바 없다.</p> <p>을: 대지 윤리는 생명 공동체의 범위를 토양, 물, 식물 그리고 동물, 즉 대지를 포함하도록 확장한다. 따라서 대지에 대한 우리의 윤리 관계는 그것에 대한 사랑과 존중, 그리고 그것의 가치에 대한 높은 평가 없이 형성될 수 없다.</p>
(나)	<div style="display: flex; align-items: center; justify-content: center;"> <div style="border: 1px solid black; border-radius: 50%; width: 40px; height: 40px; display: flex; align-items: center; justify-content: center; margin-right: 10px;">갑</div> <div style="text-align: center; margin-right: 10px;"> \xrightarrow{A} \xleftarrow{B} </div> <div style="border: 1px solid black; border-radius: 50%; width: 40px; height: 40px; display: flex; align-items: center; justify-content: center; margin-left: 10px;">을</div> </div> <div style="margin-top: 10px; font-size: small;"> <p><범례> →: 비판의 방향 A, B: 비판의 내용</p> <p><예시> A는 갑이 을에게 제기할 수 있는 비판임.</p> </div>

- ① A: 자연은 인간의 이익과 무관하게 존중받아야 함을 간과한다.
- ② A: 자연의 모든 존재는 도덕적 지위를 지니고 있음을 간과한다.
- ③ B: 개별 생명체의 보존이 생태계의 안정보다 중요함을 간과한다.
- ④ B: 생태계의 온전함은 자연에 대한 인간의 지배로 실현됨을 간과한다.
- ⑤ B: 인간은 생명 공동체 그 자체에 대한 의무를 가져야 함을 간과한다.

19. 밑줄 친 ㉠ ~ ㉢에 대한 옳은 설명만을 <보기>에서 고른 것은? [1.5점]

㉠ 건조 문화권에 속하는 갑국의 정부는 종교적 관습에 따른 복장 규정 위반 등을 이유로 ㉡ 여성의 대학 수업 참여를 금지하는 명령을 내렸다. 이에 항의하는 갑국 여성들이 증가하고 있으며, ㉢ 국제 연합(UN)도 ㉣ 갑국 정부의 이러한 명령이 여성의 자유 의지를 빼앗고 공공 생활에서 여성을 부당하게 배제하고 있다고 비판하였다.

<보 기>

- ㄱ. ㉠에서는 이동식 화전 농업이 주로 이루어진다.
- ㄴ. ㉡은 갑국에서 사회적 소수자에 해당한다.
- ㄷ. ㉢은 비정부 기구에 해당한다.
- ㄹ. ㉣은 ㉡이 보편 윤리에 어긋난다고 보았다.

- ① ㄱ, ㄴ ② ㄱ, ㄷ ③ ㄴ, ㄷ ④ ㄴ, ㄹ ⑤ ㄷ, ㄹ

20. 다음 편지가 작성된 시기에 있었던 경제 상황으로 옳은 것은? [1.5점]

친애하는 나의 친구 애덤 스미스에게

유레카! 드디어 당신의 『국부론』이 출간되었구만. 나는 그 책을 읽으며 큰 즐거움을 얻었네. 책의 내용이 대중에게는 다소 어려울 수 있으나, 결국 최고의 평가를 받을 것이네. ... (중략) ... 또한 금과 은을 쌓아두는 것이 국력이라고 주장하는 중상주의를 비판하고 그 오류를 명확하게 설명해 낸 점도 매우 훌륭하게 생각하네.

데이비드 흄

- ① 소수의 거대 기업이 시장을 독점하였다.
- ② 공장제 기계 공업의 발달로 대량 생산이 가능해졌다.
- ③ 신자유주의를 바탕으로 시장의 자율성이 강화되었다.
- ④ 두 차례의 석유 파동으로 스태그플레이션이 발생하였다.
- ⑤ 미국에서 정부 주도로 테네시강 유역 개발 공사가 시작되었다.


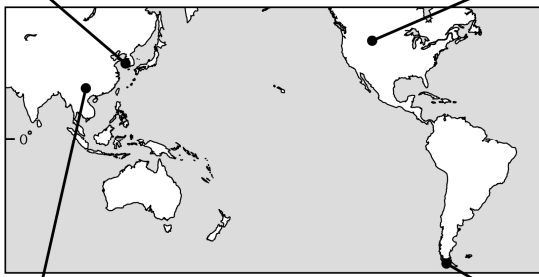
21. 다음 자료에 대한 분석으로 옳은 것은? [2점]

갑국과 을국은 유일한 생산 요소인 노동을 최대한 활용하여 X재와 Y재만을 생산한다. 양국은 동일한 노동량을 보유하고 있고, 비교 우위가 있는 재화만을 생산하여 거래 비용 없이 교역한다. 표는 갑국과 을국이 각 재화 1단위를 생산하는 데 필요한 노동자 수를 나타낸 것이다.

구분	X재	Y재
갑국	5명	4명
을국	2명	3명

- ① 갑국은 X재 생산에 절대 우위를 가진다.
- ② 갑국의 Y재 최대 생산 가능량은 을국의 X재 최대 생산 가능량의 2배이다.
- ③ X재 1단위 생산의 기회비용은 을국이 갑국보다 크다.
- ④ Y재를 특화하여 수출하는 국가는 을국이다.
- ⑤ X재와 Y재를 1:1의 비율로 교환하면 양국은 모두 이익을 얻는다.

22. 다음 자료는 각국의 자연 경관을 나타낸 것이다. 밑줄 친 ㉠~㉣에 대한 옳은 설명만을 <보기>에서 고른 것은? [2점]



<보 기>

ㄱ. ㉠은 염전이나 양식장으로 이용되기도 한다.
 ㄴ. ㉡은 지열 발전에 유리한 자연적 조건을 갖추고 있다.
 ㄷ. ㉢은 습윤한 기후 환경보다 건조한 기후 환경에서 잘 발달한다.
 ㄹ. ㉠과 ㉣은 모두 빙하의 퇴적 작용으로 형성된다.

- ① ㄱ, ㄴ ② ㄱ, ㄷ ③ ㄴ, ㄷ ④ ㄴ, ㄹ ⑤ ㄷ, ㄹ

23. 밑줄 친 ㉠~㉣에 대한 설명으로 옳은 것은? [2.5점]

○○국 ㉠정부는 탄소 배출량을 감축하고 재생에너지 사용을 장려하기 위해 가정용 태양광 발전기를 설치할 경우 ㉡설치 비용의 50%를 보조금으로 지급하는 정책을 시행하고 있다. 갑은 편익과 기회비용만을 고려하여 현재 거주하고 있는 집에 ㉢태양광 발전기를 설치할지의 여부를 선택하려고 한다. 갑이 설치를 선택할 경우 ㉣설치 비용 2,000달러 중 정부 보조금을 제외한 금액과 매월 20달러의 유지·보수 비용을 부담해야 하며, 전기 요금 절감으로 매월 60달러의 편익을 얻는다. 단, 설치한 태양광 발전기는 이전 설치 및 판매가 불가능하다.

- ① ㉠은 이윤 극대화를 추구하는 경제 주체이다.
 ② ㉡은 외부 불경제를 해결하기 위한 정책이다.
 ③ ㉢은 ㉡설치에 따른 암묵적 비용이다.
 ④ 갑이 ㉢을 설치하지 않을 경우 기회비용이 발생하지 않는다.
 ⑤ 갑이 2년 이내에 이사할 예정이라면 ㉢을 설치하지 않는 것이 합리적이다.

24. 표는 환경 관련 국제 협약이 이루어진 도시와 협약의 주요 내용을 정리한 것이다. 이에 대한 옳은 설명만을 <보기>에서 고른 것은? [1.5점]

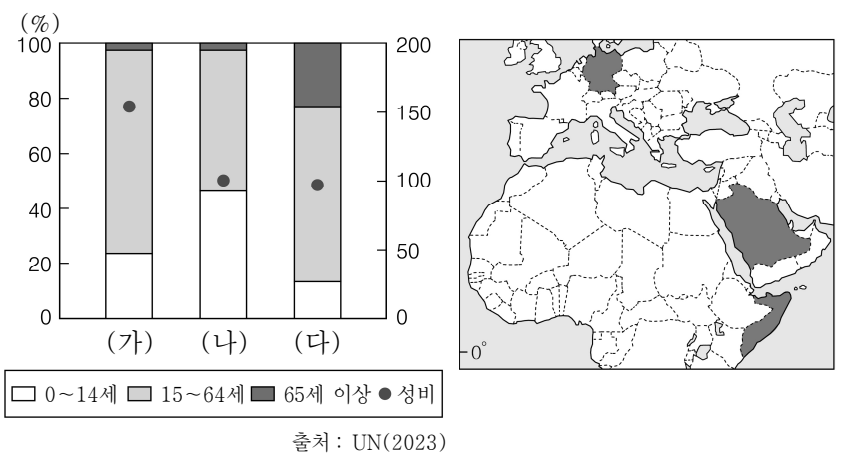
도시	협약의 주요 내용
제네바	대기 오염 물질의 장거리 이동에 관해 1979년에 체결된 협약이다. 이 협약은 ㉠산성비 문제 해결을 위해 국경을 넘어 이동하는 대기 오염 물질의 감축 및 통제를 목적으로 한다.
(가)	오존층 보호를 통한 지구 생태계 및 동식물의 피해를 방지하기 위해 1987년에 체결된 협약이다. 이 협약은 ㉡오존층 파괴 물질의 사용 규제를 명시하였다.
(나)	㉢지구 온난화 해결을 위해 2015년에 체결된 기후 변화 협약이다. 이 협약은 교토 의정서(1997년)를 대체하는 것으로 모든 당사국이 온실가스 감축에 동참하도록 하고 있다.

<보 기>

ㄱ. (가)와 (나)는 각각 속해 있는 국가의 수도이다.
 ㄴ. ㉠으로 인해 건축물의 부식 문제가 발생하기도 한다.
 ㄷ. ㉡은 피부암, 백내장 발병률 증가에 영향을 미친다.
 ㄹ. 기업은 ㉢을 위해 환경 보전에 관한 법률을 제정한다.

- ① ㄱ, ㄴ ② ㄱ, ㄷ ③ ㄴ, ㄷ ④ ㄴ, ㄹ ⑤ ㄷ, ㄹ

25. 그래프는 지도에 표시된 세 국가의 연령층별 인구 비율과 성비를 나타낸 것이다. (가)~(다) 국가에 대한 설명으로 옳은 것은? [2.5점]



- ① (가)는 (다)보다 중위 연령이 높다.
 ② (나)는 (다)보다 합계 출산율이 낮다.
 ③ (다)는 (나)보다 산업화가 시작된 시기가 이르다.
 ④ (가)~(다) 중 총부양비가 가장 높은 국가는 (가)이다.
 ⑤ (가)는 유럽, (나)는 아프리카, (다)는 아시아에 위치한다.

* 확인 사항
 ○ 답안지의 해당란에 필요한 내용을 정확히 기입(표기)했는지 확인 하시오.