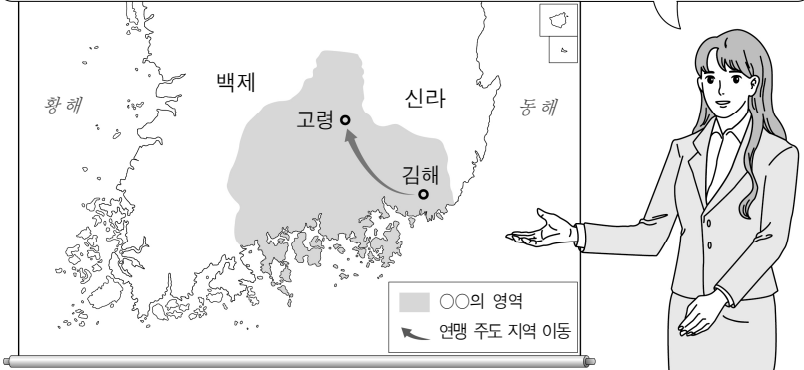


제 4 교시

한국사 영역

1. 교사의 질문에 대한 학생의 대답으로 가장 적절한 것은?

여러 소국으로 이루어진 ○○은/는 풍부한 철을 바탕으로 낙랑과 왜 등 주변 지역과 교역하면서 성장하였어요. ○○의 연맹 주도 지역이 지도처럼 바뀌게 된 배경을 말해 볼까요?



- ① 1·4 후퇴가 이루어졌어요.
- ② 위만이 왕위를 차지하였어요.
- ③ 홍경래가 봉기를 일으켰어요.
- ④ 풍수지리설이 널리 유행하였어요.
- ⑤ 고구려군이 금관가야를 공격하였어요.

2. 밑줄 친 ‘이 법’에 대한 설명으로 옳은 것은? [3점]

각 고을에서 토산물을 올리는 공납이 방납의 폐단으로 문란해져 백성들이 고통에 시달리고 있습니다. 특히 경기의 경우는 더욱 심합니다. 그러니 지금 마땅히 이 법을 만들어, 매년 집집마다 부과하던 토산물 대신 토지 결 수를 기준으로 쌀이나 베 등을 거두게 하여 그 폐단을 끊으셔야 합니다. 그리고 나라에 필요한 물건은 따로 사들이면 될 것입니다.

- ① 공인이 성장하는 배경이 되었다.
- ② 삼백 산업 발달에 영향을 주었다.
- ③ 관료에게 전지와 시지를 지급하였다.
- ④ 신라 촌락 문서를 바탕으로 세금을 거두었다.
- ⑤ 경복궁 중건 비용을 마련하기 위해 만들어졌다.

3. 다음 자료에 나타난 민족 운동에 대한 설명으로 옳은 것은?

구름 끼어 어두웠던 겨울 추위가 지나고 따사한 봄바람이 부는 기미던 3월이 되었다. 청천벽력과 같이 경성 탑골공원에서는 독립 만세 소리가 일어나고, 독립선언서가 각 지방에 배포되자 ... (중략) ... 어떤 사람은 “우리 독립은 벌써 되었지요. 아직 왜가 물러가지만 않은 것뿐이니 전국의 인민이 다 떠들고 일어나 만세를 부르면 왜놈이 자연히 쫓겨나겠지요.”라고 말하기도 했다.  
- 김구, 『백범일지』 -

- ① 서경으로 천도할 것을 주장하였다.
- ② 러시아의 절영도 조차 요구를 저지하였다.
- ③ 중인들의 관직 진출 제한이 배경이 되었다.
- ④ 대한민국 임시 정부 수립에 영향을 주었다.
- ⑤ 반민족 행위 특별 조사 위원회가 주도하였다.

4. (가) 인물에 대한 설명으로 옳은 것은?

**한국의 유네스코 세계유산**

**종묘**

종묘는 역대 왕과 왕비의 신주를 모신 유교 사당으로, 장엄하면서도 정제된 건축의 특징을 보여 준다. 종묘는 조선을 건국한 **(가)**의 명으로 한양 천도가 이루어진 이듬해 완공되었다. 유네스코 세계유산위원회는 한국인의 전통적인 가치관과 유교 문화가 결합된 신성한 건축물이자 현재까지 제례의 전통이 이어지고 있는 점을 높이 평가해, 1995년 종묘를 세계유산으로 지정하였다.

- ① 불교를 공인하였다.
- ② 균역법을 제정하였다.
- ③ 후삼국을 통일하였다.
- ④ 위화도 회군을 단행하였다.
- ⑤ 당의 산둥반도를 공격하였다.

5. 밑줄 친 ‘전쟁’ 중에 있었던 사실로 옳은 것은? [3점]

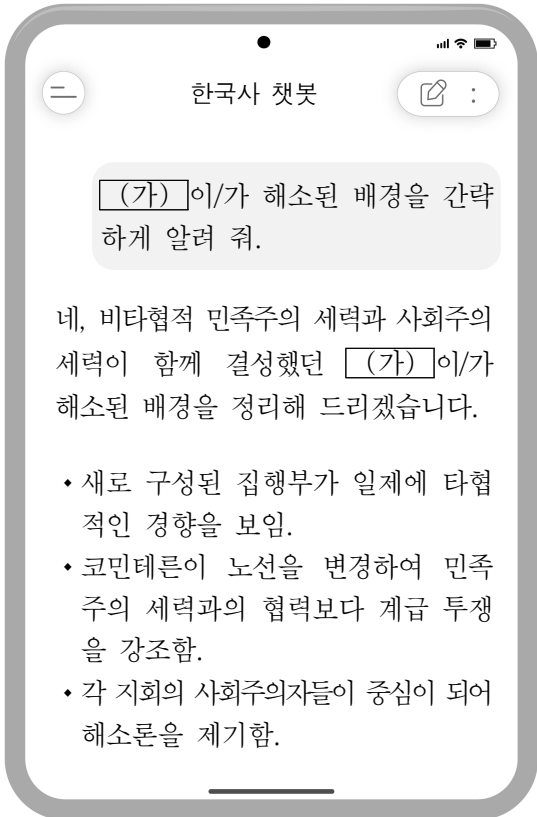
**문학으로 만나는 한국사**

송악산 옛 자취 허황한 꿈이거니,  
황폐해진 그 땅일랑 다시 생각 마오.  
그대여 바라보라, 저 새 도읍의 화산\*을  
그 중간에 궁전 열어 천자를 받드노라.  
천 개의 집 여기저기 푸른 기와 즐비하고  
만 개의 부엌 아침저녁 푸른 연기 나네.  
\* 화산: 강화도에 있는 산

○ 해설: 이 작품은 이규보가 지은 시 중 일부이다. 몽골군의 침략으로 도읍을 옮긴 뒤에 이어진 전쟁으로 황폐해진 옛 수도 개경과 대비되는 번성한 강화를 표현하였다. 이를 통해 피폐한 본토의 모습과 동떨어진 지배층의 안락한 삶을 엿볼 수 있다.

- ① 팔만대장경이 제작되었다.
- ② 백제가 평양성을 공격하였다.
- ③ 인천 상륙 작전이 전개되었다.
- ④ 어재연이 광성보에서 항전하였다.
- ⑤ 조선 수군이 한산도에서 승리하였다.

6. (가) 단체에 대한 설명으로 옳은 것은?



- ① 고종에게 헌의 6조를 올렸다.
- ② 백제 부흥 운동을 전개하였다.
- ③ 권문세족의 비리를 비판하였다.
- ④ 광주 학생 항일 운동을 지원하였다.
- ⑤ 향회의 주도권을 두고 구향과 대립하였다.

7. (가)에 들어갈 내용으로 가장 적절한 것은? [3점]

**근대사 인물 탐구 계획서**  
2학년 ○반 ○○ 모둠

1. 인물 : ○○○

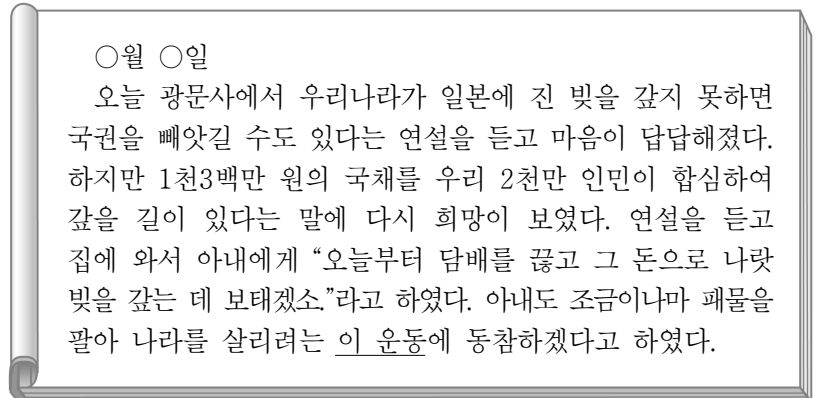
2. 선정 이유  
지배층의 수탈과 외세의 침략 위협에 맞서 반봉건·반외세의 농민 운동을 이끈 지도자임.

3. 주요 활동

- 동학에 입교
- 고부 농민 봉기 주도
- 무장에서 농민군을 이끌고 봉기
- (가)
- 우금치 전투를 지휘하였으나 패배
- 순창에서 체포된 후 사형

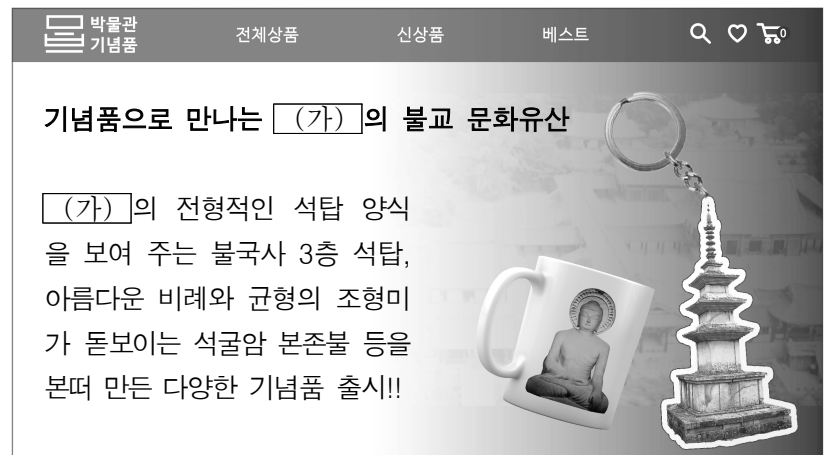
- ① 한인 애국단 결성
- ② 교정도감 설치 주도
- ③ 정부와 전주 화약 체결
- ④ 청산리에서 일본군 격파
- ⑤ 정변을 일으켜 개화당 정부 수립

8. 밑줄 친 '이 운동'에 대한 탐구 주제로 가장 적절한 것은? [3점]



- ① 삼정이정청을 설치하게 된 계기
- ② 외환 위기를 극복할 수 있었던 배경
- ③ 한·일 국교 정상화에 대한 국내 반응
- ④ 결사 운동을 전개한 고려 승려의 활동
- ⑤ 대한매일신보 등 언론의 지원이 미친 영향

9. (가) 국가의 문화에 대한 설명으로 옳은 것은?



- ① 국학이 설치되었다.
- ② 독립신문이 발간되었다.
- ③ 삼국사기가 편찬되었다.
- ④ 훈민정음이 창제되었다.
- ⑤ 조선어 학회가 활동하였다.

10. 다음 자료에 나타난 사건이 일어난 시기를 연표에서 옳게 고른 것은? [3점]


○ 8월 7일 오후 한 시에 의병 한 무리가 강원도 원주 분과소를 쳐서 부수고, 병기와 탄약을 빼앗아 갔는데 ... (중략) ... 의병 중에는 해산된 군인이 많았다.

○ 원주 진위대 군인 일백 명은 문막 등지에 매복하고, 이백 명은 원주 읍에 주둔하여 무기고를 부수고 소총 천육백 자루를 꺼내 의병에게 주었는데, 그 지방에는 다니는 사람이 없어졌다고 한다.

	(가)	(나)	(다)	(라)	(마)	
귀주 대첩	임진왜란	병자호란	러일전쟁	태평양전쟁	6·25전쟁	

- ① (가)    ② (나)    ③ (다)    ④ (라)    ⑤ (마)

11. (가) 왕에 대한 설명으로 옳은 것은?



그림은 한글본 정리의궤 중 '화성성역의궤'에 실려 있는 팔달문이다. 왕실의 주요 행사를 기록한 책을 의궤라 하는데, (가)이가 어머니 혜경궁 홍씨를 위해 한글로 제작하게 한 것이 한글본 정리의궤이다. 현재 한글본 정리의궤는 (가)이가 건설을 지시한 수원 화성의 축성 과정을 담은 '화성성역의궤', (가)의 아버지 사도세자의 묘소를 옮기는 과정을 기록한 '현릉원의궤' 등 13책이 남아있다.

- ① 훈요 10조를 남겼다.
- ② 규장각을 육성하였다.
- ③ 원수부를 설치하였다.
- ④ 화랑도를 개편하였다.
- ⑤ 경국대전을 반포하였다.

12. 밑줄 친 '이 조약'의 결과로 옳은 것은? [3점]

○○에게  
 헤이그에 특사로 온 지도 여러 날이 지났네. 우리는 황제 폐하의 뜻을 열강에 전하기 위해 평화 회의에 참가하려 하였으나 일본의 방해로 실패하였네. 하지만 다행히도 영국인 기자의 도움으로, 1905년 11월 강제로 체결된 이 조약을 우리 황제 폐하께서 결단코 승낙하지 않았다는 사실을 전 세계에 알릴 수 있었네. 또 일본의 무도한 압박과 우리의 굳건한 국권 수호 의지도 알릴 수 있었지. 황제 폐하께서 내리신 임무 중 일부라도 해낼 수 있었던 것이 그나마 다행이라 생각하네.

- ① 만주에서 독립운동이 위축되었다.
- ② 대한 제국에 통감부가 설치되었다.
- ③ 남북한 사이에 휴전이 성립되었다.
- ④ 조선이 일본에 통신사를 파견하였다.
- ⑤ 고려가 강동 6주 지역을 확보하였다.

13. 밑줄 친 '시기'에 볼 수 있는 모습으로 가장 적절한 것은?

일제가 중일 전쟁 이후 침략 전쟁을 확대해 가던 시기에 강제 징용으로 일본에 끌려 가셨다고 들었습니다. 자세한 이야기를 부탁드립니다.


저는 홋카이도 소라치에 있는 석회석 광산에서 일했습니다. 할당량을 채우려 14시간 이상 일하면서도 배를 굶아 영양실조로 죽는 사람이 많았습니다.



- ① 사출도를 다스리는 제가
- ② 신사 참배에 동원되는 학생
- ③ 유신 헌법 통과에 분노하는 기자
- ④ 강화도 조약 체결을 반대하는 유생
- ⑤ 별무반에 소속되어 여진을 정벌하는 군인

14. (가) 사건에 대한 탐구 활동으로 가장 적절한 것은? [3점]

이 조형물은 진압군을 피해 두 살 난 딸을 업고 도망가다 희생된 어머니와 딸을 형상화한 것입니다. 1948년 제주도의 좌익 세력이 봉기한 후, 군경과 우익 단체 등이 이를 무력으로 진압하는 과정에서 제주도의 수많은 민간인이 희생된 (가)을/를 상징적으로 보여 주는 작품입니다.



- ① 노비안검법 시행의 목적을 파악한다.
- ② 구식 군인이 받은 차별 대우를 살펴본다.
- ③ 남한만의 단독 선거 결정이 끼친 영향을 분석한다.
- ④ 훈구와 사림 세력의 대립이 심화된 원인을 알아본다.
- ⑤ 간도에서 일본군이 한국인을 학살한 배경을 조사한다.

15. (가) 정부 시기의 사실로 옳은 것은? [3점]

**대법원 재심판결**

청구인: 피고인(조봉암)의 아들 ○○○ 외 3인  
 선고일: 2011. 1. 20.

**주문**

원심판결과 제1심판결 중 유죄 부분을 각각 파기한다.

**이유**

피고인은 초대 농림부 장관으로 재직하면서 농지 개혁의 기틀을 마련하여 우리나라 경제 체제의 기반을 다진 정치인이었다. 그런데 (가) 시기 진보당 창당과 관련한 이 사건의 판결로 사형이 집행되기에 이르렀는 바, 이 사건 재심에서 피고인에 대한 공소 사실 대부분이 무죄로 밝혀졌다. 이에 뒤늦게나마 그 잘못을 바로잡고자 주문과 같이 판결한다.

- ① 골품제가 운영되었다.
- ② 홍범 14조가 반포되었다.
- ③ 3·15 부정 선거가 일어났다.
- ④ 정동행성 이문소가 폐지되었다.
- ⑤ 금강산 관광 사업이 시작되었다.

16. (가) 군대에 대한 설명으로 옳은 것은? [3점]

공훈전자자료관

공훈록    공적 개요

**유공자 정보 : 박차정(1910 ~ 1944)**

조선청년동맹, 근우회 등에서 활동하다 1930년 중국으로 망명하였다. 1931년 김원봉과 만나 결혼하고 의열단원으로 활동하였다. 1938년 김원봉이 조선 민족 전선 연맹 산하에 중국 관내 첫 한국인 무장 부대인 (가)을/를 창설하자, 부녀복무단을 조직하여 활동하였다. 1939년 곤륜산에서 일본 군을 상대로 전투하던 중 부상을 입고, 후유증으로 고생하다 1944년 사망하였다. 정부는 1995년 건국훈장 독립장을 추서하였다.


- ① 4군 6진을 개척하였다.
- ② 매소성에서 당군을 격파하였다.
- ③ 일부가 한국광복군에 합류하였다.
- ④ 안시성 전투에서 승리를 거두었다.
- ⑤ 러시아령 자유시(스보보드니)로 이동하였다.

17. (가) 정부 시기의 경제 상황으로 옳은 것은?

3선 개헌이 이루어진 이듬해는 (가)의 경제 성장 전략이 갖는 명암이 뚜렷하게 드러난 해였다. 수도권과 영남권을 잇는 경부 고속 국도(도로)가 약 2년 간의 공사 끝에 완공되어 경제 성장의 상징으로 자리 잡았다. 반면, 같은 해 11월 평화시장 노동자 전태일이 분신한 사건은 고도성장의 이면에 자리한 노동자의 열악한 현실을 드러냈다.

- ① 관리에게 관료전이 지급되었다.
- ② 동양 척식 주식회사가 설립되었다.
- ③ 상평통보가 전국적으로 유통되었다.
- ④ 경제 개발 5개년 계획이 시행되었다.
- ⑤ 3저 호황을 기반으로 경제가 성장하였다.

18. 밑줄 친 '정부' 시기에 있었던 사실로 옳은 것은?



국민 여러분, 군사 독재와 일제 잔재 청산을 위해 '역사 바로 세우기'를 추진해 온 우리 정부는 세계 경제 질서의 변화에 능동적으로 대응하고자 경제 협력 개발 기구(OECD)에 가입하였습니다.

- ① 군국기무처가 설치되었다.
- ② 금융 실명제가 실시되었다.
- ③ 의정부 서사제가 시행되었다.
- ④ 베트남에 파병이 이루어졌다.
- ⑤ 비밀 행정 조직인 연통제가 운영되었다.

19. (가) 운동에 대한 설명으로 옳은 것은?

아버지의 영정을 들고 있는 아이는 (가) 당시 광주의 전남도청 앞에서 벌어진 계엄군의 총격으로 아버지를 잃었습니다. 독일 잡지에 실린 이 사진은 계엄군에 맞섰던 시민의 희생과 가족의 비극을 전 세계에 알리는 역할을 하였습니다.



- ① 청의 문물 수용을 주장하였다.
- ② 신탁 통치 결정을 반대하였다.
- ③ 시민군이 조직되어 활동하였다.
- ④ 회사령 폐지를 배경으로 일어났다.
- ⑤ 조선책략 유포를 계기로 확산하였다.

20. (가) 정부의 통일을 위한 노력으로 옳은 것은? [3점]

[역사 속 오늘]

9월 17일

**남북한 국제 연합[UN] 동시 가입**

1991년 오늘은 제46차 유엔 총회의 결정에 따라 남북한이 유엔 회원국으로 동시 가입한 날이다. 남북한 유엔 동시 가입은 한반도의 대립 구도에 변화를 불러왔다. 이것은 소련, 중국을 비롯한 공산권 국가들과 수교하는 등 북방 외교를 추진하고 남북 대화를 지속해 온 (가)의 대표적인 성과라고 할 수 있다.

- ① 국민 대표 회의를 열었다.
- ② 남북 기본 합의서를 채택하였다.
- ③ 좌우 합작 위원회를 결성하였다.
- ④ 7·4 남북 공동 성명을 발표하였다.
- ⑤ 최초로 남북 정상 회담을 개최하였다.

\* 확인 사항  
 ◦ 답안지의 해당란에 필요한 내용을 정확히 기입(표기)했는지 확인 하시오.