


제 4 교시

사회탐구 영역(세계지리)

성명 수험번호 3 제 [] 선택

1. 다음은 (가)~(다) 지도의 특징을 표로 나타낸 것이다. 이에 대한 설명으로 옳은 것은? (단, (가)~(다)는 각각 알 이드리스 세계 지도, 지구전후도, 혼일강리역대국도지도 중 하나임.)



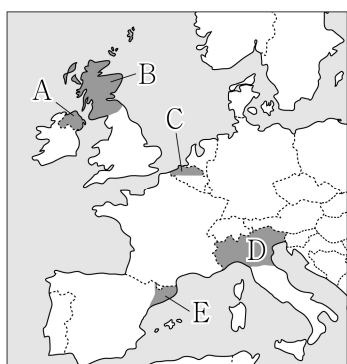
특징 \ 지도	(가)	(나)	(다)
A	✓	✓	
B		✓	✓

* 각 지도의 특징으로 옳은 항목에만 '✓' 표시되어 있음.

- ① (가)는 지도의 위쪽이 북쪽이다.
- ② (가)와 (나)는 모두 경위선이 표현되어 있다.
- ③ (나)는 (다)보다 최초 제작 시기가 늦다.
- ④ A에는 '중화사상이 반영되어 있다.'가 들어갈 수 있다.
- ⑤ B에는 '우리나라에서 제작되었다.'가 들어갈 수 있다.

2. (가)~(다)에 해당하는 지역을 지도의 A~E에서 고른 것은?

(가)	잉글랜드와 민족·문화가 달라 오랫동안 분리 독립을 추진하였으며, 브렉시트(Brexit)를 계기로 독립을 위한 움직임이 다시 커지고 있다. 최근에는 에든버러와 글래스고 일대의 첨단 산업 클러스터인 실리콘 글렌이 주목받고 있다.
(나)	주민 대부분이 네덜란드어를 사용하고 있으며, 프랑스어를 주로 사용하는 왈로니아 지역에 비해 평균 소득 수준이 높다. 이러한 언어적 차이와 경제적 격차로 인해 지역 주민들이 분리 독립을 주장하기도 하였다.
(다)	카탈루냐어라는 독자적인 언어를 사용하고 있으며, 다른 지역과 달리 고유한 역사와 문화를 유지하고 있어 지역 정체성이 강하다. 이에 따라 바르셀로나를 중심으로 꾸준히 분리 독립에 대한 요구가 나타나고 있다.



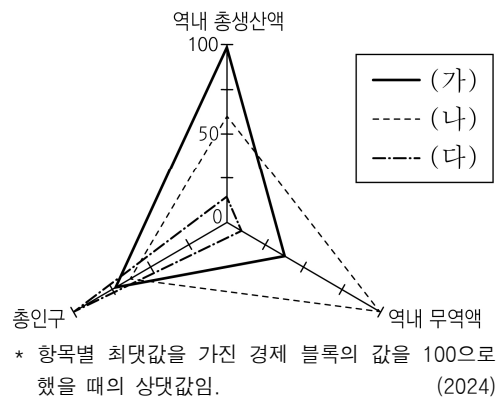
- | | (가) | (나) | (다) |
|---|-----|-----|-----|
| ① | A | B | E |
| ② | A | C | D |
| ③ | B | A | D |
| ④ | B | C | E |
| ⑤ | C | D | E |

3. 다음 자료의 ㉠~㉣에 대한 설명으로 옳지 않은 것은?



- ① ㉠은 만보다 곳에서 주로 발달한다.
- ② ㉡은 시간이 지나면 점차 육지 쪽으로 후퇴한다.
- ③ ㉢은 과거의 파식대가 융기하여 형성된 계단 모양의 지형이다.
- ④ ㉣은 용암이 빠르게 냉각되는 과정에서 형성되었다.
- ⑤ ㉣의 기반암은 주로 석회암으로 이루어져 있다.

4. 그래프는 세 경제 블록의 특징을 나타낸 것이다. (가)~(다)에 대한 설명으로 옳은 것만을 <보기>에서 고른 것은? (단, (가)~(다)는 각각 동남아시아 국가 연합, 미국·멕시코·캐나다 협정, 유럽 연합 중 하나임.) [3점]

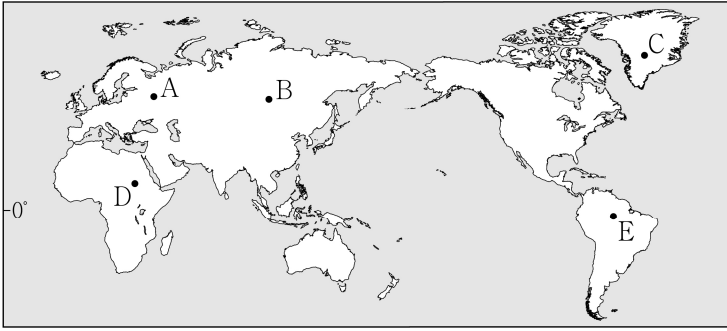


* 항목별 최댓값을 가진 경제 블록의 값을 100으로 했을 때의 상대값임. (2024)

- <보 기>
- ㄱ. (가)의 모든 회원국은 달러화를 단일 통화로 사용한다.
 - ㄴ. (나)는 역내 생산 요소의 자유로운 이동이 보장된다.
 - ㄷ. (다)는 (가)보다 회원국 수가 많다.
 - ㄹ. (다)는 (나)보다 정치·경제적 통합 수준이 높다.

- ① ㄱ, ㄴ ② ㄱ, ㄷ ③ ㄴ, ㄷ ④ ㄴ, ㄹ ⑤ ㄷ, ㄹ

5. 지도의 A~E 지역에 대한 설명으로 옳은 것은? [3점]



- ① C에는 타이가라 불리는 침엽수림대가 넓게 나타난다.
- ② E에서는 연중 편서풍이 탁월하게 분다.
- ③ A는 B보다 겨울 강수 집중률이 높다.
- ④ C는 B보다 최난월 평균 기온이 높다.
- ⑤ D는 E보다 대류성 강수일수가 많다.

6. 다음 자료는 건조 아시아와 북부 아프리카 단원의 퀴즈 일부이다. (가)에 대한 설명으로 옳은 것은?

○ 다음 <퀴즈>의 정답을 <글자판>에서 지워봅시다.

<퀴즈>

(1) 이란과 오만 사이에 위치하며 페르시아만과 오만만을 잇는 해상 통로

(2) 마을과 농경지로 물을 공급하기 위해 건설된 이란의 전통적인 지하 관개 수로

(3) '꼬챙이에 끼워 불에 구운 고기'를 뜻하는 유목민들의 대표적 육류 요리

<글자판>

해				
무	나			
르	호	대		
사	즈	케	카	
밥	협	지	헬	트

→ 남은 글자를 모두 활용하여 만든 단어는 (가) 입니다.

- ① 중앙아시아 유목민의 이동식 전통 가옥
- ② 비가 내릴 때만 일시적으로 물이 흐르는 골짜기
- ③ 습윤 지역에서 발원하여 건조 지역을 통과해 흐르는 하천
- ④ 실내 공기를 정화하고 온도를 조절하는 서남아시아의 바람 탑
- ⑤ 사하라 사막 남쪽 가장자리에 위치하며 사막화가 진행되는 지역

7. 표는 지도에 표시된 세 국가의 신자 수 상위 2개 종교를 나타낸 것이다. A~C 종교에 대한 설명으로 옳은 것만을 <보기>에서 고른 것은? (단, A~C는 각각 불교, 이슬람교, 힌두교 중 하나임.) [3점]

국가	순위	1위	2위
□□		A	B
○○		A	C
△△		B	A

<보 기>

ㄱ. A는 유일신을 믿는 종교이다.

ㄴ. B는 소를 신성시하여 식용을 금기시한다.

ㄷ. A는 C보다 전 세계 신자 수가 많다.

ㄹ. C는 B보다 발생 시기가 이른다.

- ① ㄱ, ㄴ ② ㄱ, ㄷ ③ ㄴ, ㄷ ④ ㄴ, ㄹ ⑤ ㄷ, ㄹ

8. 다음은 세계지리 수행 평가지이다. 이에 대한 설명으로 옳은 것만을 <보기>에서 있는 대로 고른 것은? [3점]

<수행 평가지>

3학년 ○반 ○번 이름: ○○○

○ 밀, 쌀, 옥수수의 특징을 각각 두 개씩 작성하시오.
(※ 옳은 특징에만 1점을 부여하고, 모두 옳게 작성한 경우 6점임.)

식량 자원	특징		
A	1. 식용보다 사료용으로 소비되는 양이 많다. 2. 수출량은 아메리카가 아시아보다 많다.		
B	1. 최대 생산국은 아시아에 위치한다. 2. 아시아 계절풍 기후 지역에서 주로 재배된다.		
C	1. 기원지는 서남아시아의 건조 기후 지역이다. 2. (가)		
		점수	3점

교사 의견	A의 특징은 2개 모두 옳게 작성했습니다. B와 C에 작성한 4개의 특징 중에는 하나만 옳게 작성했습니다.
-------	--

<보 기>

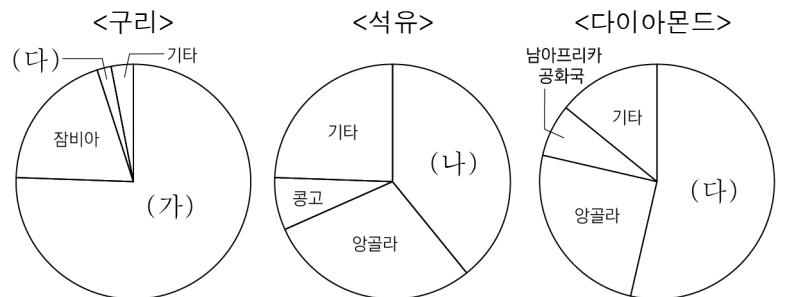
ㄱ. A는 B보다 단위 면적당 생산량이 많다.

ㄴ. B는 C보다 국제 이동량이 많다.

ㄷ. (가)에는 'A~C 중 재배 면적이 가장 넓다.'가 들어갈 수 있다.

- ① ㄱ ② ㄷ ③ ㄱ, ㄴ ④ ㄴ, ㄷ ⑤ ㄱ, ㄴ, ㄷ

9. 그래프는 세 자원의 사하라 이남 아프리카 국가별 생산량 비율을 나타낸 것이다. (가)~(다)에 해당하는 국가를 지도의 A~C에서 고른 것은?

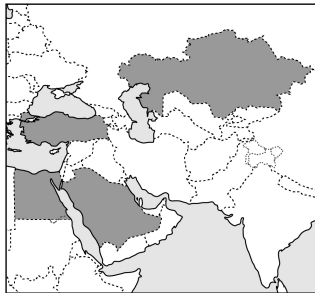


* 자원별 사하라 이남 아프리카 국가의 생산량 합을 100%로 하며, 상위 3개국 외에는 기타로 처리함.
** 다이아몬드는 보석용 다이아몬드 생산량을 기준으로 함. (2023)

	(가)	(나)	(다)
①	A	B	C
②	B	A	C
③	B	C	A
④	C	A	B
⑤	C	B	A

10. 다음 자료의 (가)~(라) 국가에 대한 설명으로 옳은 것만을 <보기>에서 있는 대로 고른 것은? (단, (가)~(라)는 각각 지도에 표시된 국가 중 하나임.) [3점]

- (가)~(라) 중 총인구 상위 2개 국가는 (나)와 (다)이다.
 - (가)~(라) 중 국내 총생산에서 1차 산업이 차지하는 비율은 (다)가 가장 높다.
 - (라)는 (가)보다 석유 생산량이 많다.
- * 2023년 기준임.



<보 기>

- ㄱ. (나)는 아프리카에 위치한다.
- ㄴ. (가)는 (나)보다 총수출액이 많다.
- ㄷ. (라)는 (다)보다 청장년층 인구의 성비가 높다.

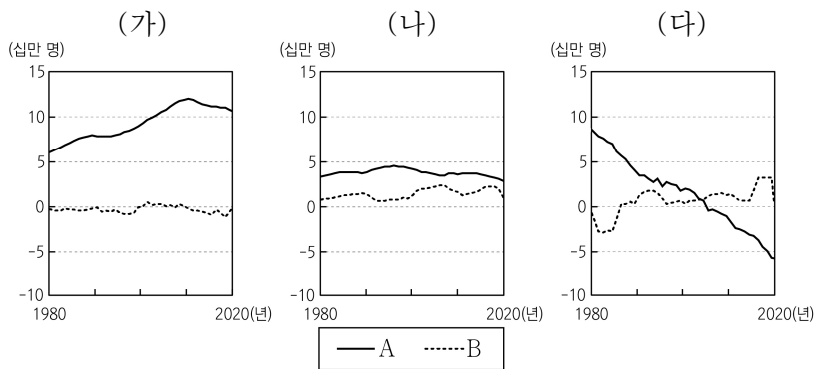
- ① ㄱ ② ㄷ ③ ㄱ, ㄴ ④ ㄴ, ㄷ ⑤ ㄱ, ㄴ, ㄷ

11. 다음 자료의 (가)~(다) 도시에 대한 설명으로 옳은 것은? (단, (가)~(다)는 각각 런던, 리우데자네이루, 시카고 중 하나임.)

(가)	(나)	(다)
# 거대 예수상 # 삼바 퍼레이드 # 세계 3대 미항	# 빅 벤 # 카나리 워프 # 세계적 금융 중심지	# 클라우드 게이트 # 오대호 연안 # 고층 건물의 스카이라인

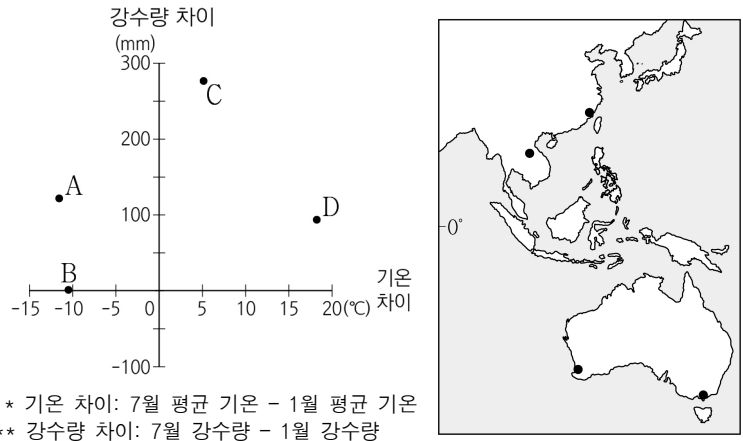
- ① (가)에는 파벨라라 불리는 불량 주택 지구가 있다.
- ② (나)에는 국제 연합의 본부가 위치한다.
- ③ (다)는 최상위 계층의 세계 도시이다.
- ④ (가)는 (나)보다 생산자 서비스업 종사자 비율이 높다.
- ⑤ (나)는 (다)보다 도시 발달의 역사가 짧다.

12. 그래프는 세 국가의 인구 특성을 나타낸 것이다. 이에 대한 설명으로 옳은 것은? (단, (가)~(다)는 각각 말레이시아, 일본, 케냐 중 하나이며, A, B는 각각 인구의 순 이동, 인구의 자연적 증감 중 하나임.) [3점]



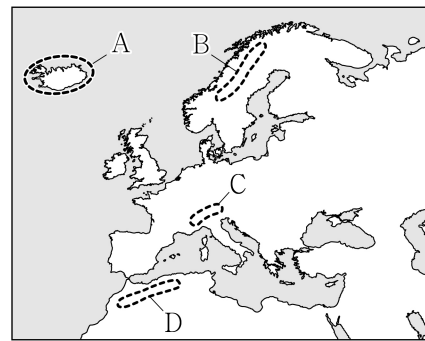
- ① A는 인구의 순 이동, B는 인구의 자연적 증감에 해당한다.
- ② (나)는 1980~2020년 인구 순 유출 지역이다.
- ③ (다)는 1980년 이후 총인구가 지속적으로 감소하고 있다.
- ④ (나)는 (가)보다 1인당 국내 총생산이 많다.
- ⑤ (다)는 (가)보다 중위 연령이 낮다.

13. 그래프는 지도에 표시된 네 지역의 기온 및 강수량 차이를 나타낸 것이다. A~D 지역에 대한 설명으로 옳은 것은? [3점]



- ① A는 최한월 평균 기온이 18°C 이상이다.
- ② C에서는 올리브 등을 재배하는 수목 농업이 활발하다.
- ③ B는 A보다 1월에 아열대 고압대의 영향을 많이 받는다.
- ④ C는 D보다 적도와 최단 거리가 가깝다.
- ⑤ A~D 중 7월 낮 길이는 B가 가장 길다.

14. 지도에 표시된 A~D에 대한 설명으로 옳은 것만을 <보기>에서 고른 것은?

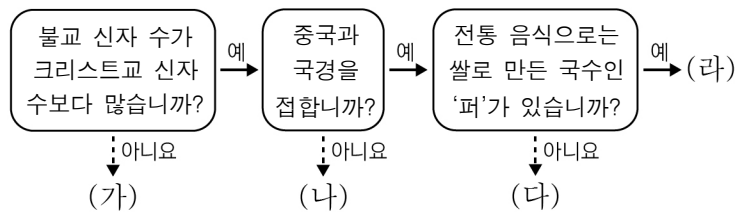


<보 기>

- ㄱ. A에서는 마그마가 상승하여 새로운 지각이 만들어진다.
- ㄴ. C는 알프스-히말라야 조산대에 속한다.
- ㄷ. B는 D보다 지진 활동이 활발하다.
- ㄹ. C는 B보다 산맥의 형성 시기가 이르다.

- ① ㄱ, ㄴ ② ㄱ, ㄷ ③ ㄴ, ㄷ ④ ㄴ, ㄹ ⑤ ㄷ, ㄹ

15. 다음 자료의 (가)~(라) 국가에 대한 설명으로 옳은 것만을 <보기>에서 고른 것은? (단, (가)~(라)는 각각 미얀마, 베트남, 타이, 필리핀 중 하나임.)



<보 기>

- ㄱ. (가)는 남중국해 난사 군도의 영유권 분쟁 당사국이다.
- ㄴ. (나)의 여성 전통 의복으로는 아오자이가 있다.
- ㄷ. (다)에서는 로힝야족에 대한 탄압으로 난민이 발생하였다.
- ㄹ. (라)에서 열리는 대표적인 축제로는 송끄란이 있다.

- ① ㄱ, ㄴ ② ㄱ, ㄷ ③ ㄴ, ㄷ ④ ㄴ, ㄹ ⑤ ㄷ, ㄹ

16. 다음 자료의 ㉠~㉣에 대한 설명으로 옳은 것만을 <보기>에서 고른 것은?

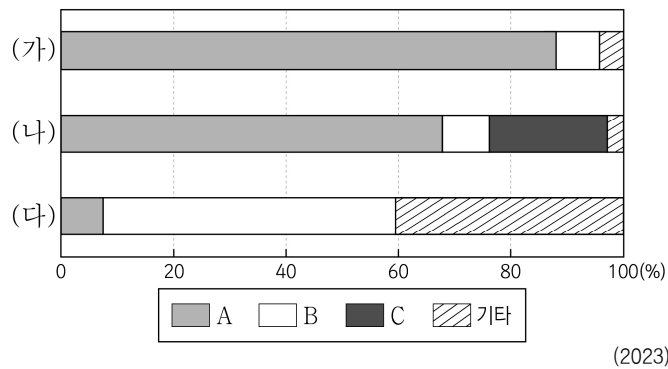
핀마르크는 노르웨이 최북단 지역으로 북극해와 맞닿아 있습니다. 이 지역에서는 웅장한 ㉠ 피오르뿐만 아니라 다각형 모양의 ㉡ 구조토를 관찰할 수 있으며, 사미족의 전통문화도 체험할 수 있습니다.

아카바는 요르단 남부 지역으로 붉은색 모래와 암석으로 이루어진 사막이 나타납니다. 이 사막에서는 여러 영화에 등장한 ㉢ 바르한과 ㉣ 버섯바위 등의 지형을 관찰할 수 있으며, 캠핑도 가능합니다.

<보 기>
 가. ㉠은 후빙기 해수면 상승으로 형성되었다.
 나. ㉡은 토양의 동결과 용해가 반복되면서 형성되었다.
 다. ㉢은 바람에 날린 모래의 침식을 받아 형성되었다.
 르. ㉣은 주로 유수에 의한 퇴적으로 형성되었다.

- ① 가, 나 ② 가, 다 ③ 나, 다 ④ 나, 르 ⑤ 다, 르

17. 그래프는 세 국가의 신·재생 에너지 발전량 비율을 나타낸 것이다. 이에 대한 설명으로 옳은 것은? (단, (가)~(다)는 각각 뉴질랜드, 독일, 캐나다 중 하나이고, A~C는 각각 수력, 지열, 풍력 중 하나임.) [3점]



- ① (나)는 북반구, (다)는 남반구에 위치한다.
 ② A 발전량은 (가)가 중국보다 많다.
 ③ C는 유량이 풍부하고 낙차가 큰 곳이 발전에 유리하다.
 ④ B는 C보다 발전 시 기상 조건의 영향을 크게 받는다.
 ⑤ A~C 중 전 세계 발전량은 B가 가장 많다.

18. 다음은 세계지리 수업 장면이다. 교사의 질문에 대한 학생의 대답으로 옳은 것은? [3점]

표는 문순 아시아와 오세아니아 국가의 주요 무역 품목별 생산량 순위를 나타낸 것입니다. A~C 국가에 대해 발표해 볼까요?

순위	품목	철광석	팜유	자동차
1위		A	B	중국
2위		중국	말레이시아	C
3위		인도	타이	인도

- ① 갑: B의 원주민으로는 애버리지니가 대표적입니다.
 ② 을: A는 B보다 1차 산업 종사자 수가 많습니다.
 ③ 병: C는 A보다 국내 총생산에서 제조업이 차지하는 비율이 높습니다.
 ④ 정: A와 B 간의 무역액은 A와 C 간의 무역액보다 많습니다.
 ⑤ 무: A~C 중 인구 밀도가 가장 높은 국가는 A입니다.

19. 다음 글은 (가)~(다) 국가에 대한 설명이다. 이에 대한 설명으로 옳은 것은? [3점]

- (가)에는 아마존강 유역을 중심으로 발달한 열대 우림이 넓게 펼쳐져 있다. 수도인 A 은/는 내륙 개발을 위해 계획적으로 조성된 도시이다.
- (나)에는 라플라타강이 우루과이와의 국경선을 이루며 흐르고 있다. 수도인 B 은/는 탱고의 발상지로 유명한 대서양 연안의 항구 도시이다.
- (다)에는 세계적인 리튬 매장지로 알려진 우유니 소금 사막이 있다. '평화'라는 뜻을 가진 행정 수도 C 은/는 안데스 산맥의 고산 지대에 자리잡고 있다.

- ① (나)에서는 주로 포르투갈어를 사용한다.
 ② (가)는 (다)보다 철광석 생산량이 많다.
 ③ (나)는 (가)보다 소 사육 두수가 많다.
 ④ (다)는 (나)보다 총인구 중 유럽계의 비율이 높다.
 ⑤ A~C는 모두 해당 국가의 수위 도시이다.

20. 다음 자료의 A~E 지역에 대한 설명으로 옳은 것은?

◇◇ 신문 2000년 □월 △일

국제축구연맹은 미국 11개, 멕시코 3개, 캐나다 2개 지역을 2026년 북중미 월드컵 개최지로 선정했다. 세 국가의 수도 중 개최지로 선정된 지역은 E가 유일하다.

<2026 북중미 월드컵 개최지>

- ① A는 유전을 기반으로 석유 화학 공업이 발달하였다.
 ② C에는 첨단 산업이 발달한 실리콘 벨리가 있다.
 ③ D는 러스트 벨트에 위치한 철강 산업 중심지이다.
 ④ E는 잉카 문명의 중심 도시이다.
 ⑤ B는 C보다 공업 발달의 역사가 오래되었다.

* 확인 사항
 ○ 답안지의 해당란에 필요한 내용을 정확히 기입(표기)했는지 확인 하시오.