


제 4 교시

사회탐구 영역(동아시아사)

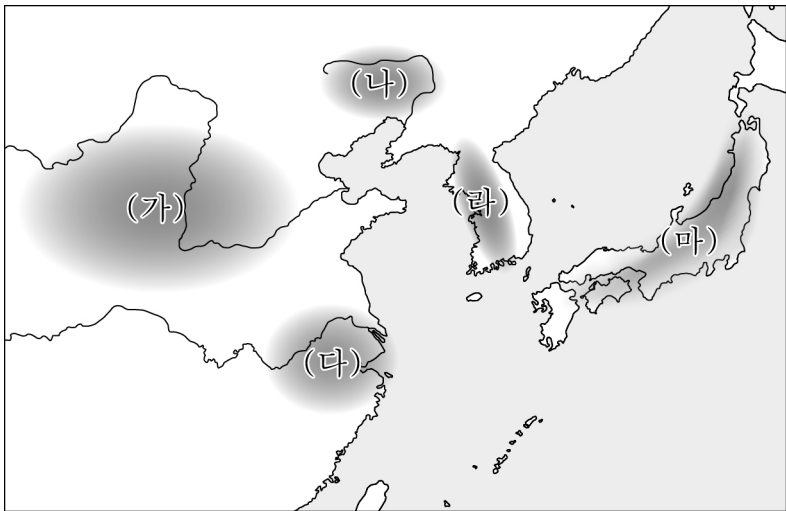
성명		수험번호				3			제 [] 선택
----	--	------	--	--	--	---	--	--	----------

1. 밑줄 친 ‘이 지역’을 지도에서 옳게 고른 것은?

다큐멘터리
양사오 문화를 찾아서



신석기 시대 이 지역에서 발달한 양사오 문화를 소개합니다. 인면어(사람 얼굴을 한 물고기)를 그려 넣은 토기 등 독자적인 채도를 남긴 양사오 문화를 살펴보며 이 지역 신석기인의 삶을 느껴보세요.



- ① (가) ② (나) ③ (다) ④ (라) ⑤ (마)

2. (가) 국가에 대한 설명으로 옳은 것은? [3점]

동호(東胡)가 사신을 보내 (가)의 선우 목특에게 천리마를 요구하였다. 목특은 신하들의 반대를 무릅쓰고 천리마를 주었다. 동호가 다시 목특의 아내를 요구하자, 목특은 그녀를 보냈다. 동호의 왕이 교만해져 두 나라 사이의 땅 1천 리를 차지하겠다고 하자, 목특은 크게 노하여 “땅은 나라의 근본이다. 어찌 이것을 내어줄 수 있단 말이나!”라고 말하고, 군대를 이끌고 동호를 공격하여 멸망시켰다.

- ① 과거제를 시행하였다.
 ② 팔기제를 운영하였다.
 ③ 좌현왕과 우현왕을 두었다.
 ④ 남비엣(남월)을 멸망시켰다.
 ⑤ 베트남 북부에 안남 도호부를 설치하였다.

3. (가) 인물에 대한 설명으로 옳은 것은? [3점]

마침내 (가) 이/가 선대의 업적을 계승하여 온 세상을 말을 몰 듯 부리니, 주(周)의 영토를 모두 삼키고 6국을 멸망시켰으며 처음으로 황제의 자리에 올라 천지를 제압하였다. ... (중략) ... 오랑캐들은 감히 남쪽으로 내려와 말을 방목하지 못했고, 활을 당겨 원망을 갚으려 하지 못하였다. 이를 틈타 (가) 은/는 선왕의 도를 폐하고 백가(百家)의 말이 담긴 책을 불태워 백성을 어리석게 했으며, 백가의 명성을 허물었다.

- ① 군현제를 시행하였다.
 ② 장건을 서역에 파견하였다.
 ③ 준왕을 몰아내고 집권하였다.
 ④ 상앙을 등용하여 개혁을 실시하였다.
 ⑤ 히미코에게 친위왜왕의 칭호를 주었다.

4. (가), (나) 국가에 대한 설명으로 옳은 것은?

아구다의 손자인 (가) 의 황제 완안량이 군대를 이끌고 화이하강을 건너 남하하였다. 이 소식이 전해지자 (나) 의 고종은 수도 임안(항저우)을 포기하고 도망치려 하였으나, 진강백의 결연한 만류로 잠시 머물며 사태를 관망하기로 하였다. 마침내 완안량의 군대가 창장강을 건너 채석*을 공격하였으나, (나) 의 우윤문이 흠어진 군사를 정돈하고 사기를 북돋아 (가) 의 군대를 무찔렀다.

* 채석: 현재의 안후이성 마안산시

- ① (가) - 거란(요)을 멸망시켰다.
 ② (가) - 토번에 화번공주를 보냈다.
 ③ (나) - 5호 16국 시대의 분열을 수습하였다.
 ④ (나) - 호라즘을 정복하고 비단길을 장악하였다.
 ⑤ (가)와 (나) - 전연의 맹약을 체결하였다.

5. (가) 유학 사상에 대한 설명으로 옳은 것은? [3점]

(가)의 성립과 변천 중국

송 원 명 청

원의 인종은 유학을 중시하여 국자감에 유교 경전을 연구하는 송문각을 설치하고 과거제를 부활시켰다. 이때 남송의 주희가 편찬한 『사서집주』가 과거 시험의 교재로 채택되어 과거 응시자들의 필독서가 되었다. 그 결과 주희가 집대성한 (가)의 학문적 권위가 점차 높아졌다.

- ① 독서삼품과 시행에 영향을 주었다.
 ② 해체신서의 간행을 계기로 발전하였다.
 ③ 마음이 곧 원리라는 심즉리를 내세웠다.
 ④ 자비에 의한 중생의 구제를 강조하였다.
 ⑤ 격물치지와 거경궁리의 수양 방법을 중시하였다.

동아시아사

6. (가) 승려가 활동한 시기 동아시아에서 볼 수 있는 모습으로 가장 적절한 것은?

이곳 도쿄 우에노 공원에 있는 (가)의 동상은 중·일 수교 50주년을 기념하여 제작되었습니다. 일본 승려들의 요청을 받은 (가)은/는 여섯 차례 시도 끝에 일본에 도착하였습니다. 이후 쇼무 태상천황에게 보살계를 내리고 승려들에게 수계하는 방식을 전수하는 등 일본 불교 발전에 기여하였습니다.



- ① 견당사를 접견하는 황제
- ② 만동묘를 참배하는 양반
- ③ 가부키를 공연하는 배우
- ④ 백운동 서원에서 공부하는 유생
- ⑤ 사고전서 편찬 작업에 참여하는 학자

7. 밑줄 친 '반란'이 전개된 시기 동아시아에서 볼 수 있는 모습으로 가장 적절한 것은? [3점]

S#7. 경정충의 처형을 논의하는 장면

황제: 경정충을 처형해야 한다는 의견이 있다고 들었다. 그대의 생각은 어떠한가?

신하: 번(藩)의 폐지에 반발해 반란을 일으킨 오삼계는 죽었고 경정충과 상지신이 항복하였지만 여전히 저항하는 자들이 있습니다. 후환을 없애기 위해 경정충을 처형해야 합니다.

황제: 지금 경정충을 죽인다면 투항하지 않은 자들은 항복하려는 마음이 싸늘하게 식을 것이다. 우선은 경정충을 처형하지 말고 이곳 베이징으로 호송하라.

- ① 오닌의 난에 가담하는 무사
- ② 천계령을 어겨 처벌받는 상인
- ③ 해적을 소탕하는 청해진 병사
- ④ 헤이안쿄 건설에 동원된 농민
- ⑤ 몽골의 침략에 맞서는 대월의 장군

8. (가)에 대한 설명으로 옳은 것만을 <보기>에서 고른 것은? [3점]

동아시아사 산책 2026년 여름호

일본의 (가) 무역 쇠퇴와 구리 무역의 성장

회취법의 도입과 이와미 광산의 개발에 힘입어 16세기 말 일본의 (가) 생산량은 전 세계 생산량의 약 3분의 1에 달하였다. 이에 따라 (가)은/는 일본의 주요 무역 결제 수단으로 자리 잡았으나, 17세기 후반에 이르러 고갈되어 갔다. 이에 막부는 나가사키에서 청과 네덜란드의 물품을 주로 구리로 구입하게 하였다. 그 결과 17세기 후반에는 구리가 일본의 주요 교역품으로 부상하였다.

— <보 기> —

ㄱ. 송에서 일본으로 대량 수출되었다.
 ㄴ. 명·청대에 세금 납부 수단으로 활용되었다.
 ㄷ. 조선이 초량 왜관을 통해 수출한 주요 상품이였다.
 ㄹ. 갈레온 무역을 통해 아메리카에서 중국으로 유입되었다.

- ① ㄱ, ㄴ ② ㄱ, ㄷ ③ ㄴ, ㄷ ④ ㄴ, ㄹ ⑤ ㄷ, ㄹ

9. 밑줄 친 '요구'가 제시된 시기를 연표에서 옳게 고른 것은?

8월 26일 정미(丁未)

비가 오다 개다 하였다. 경상우수사 원균이 왔다. 잠시 후 전라우수사 이억기와 충청수사 정걸을 함께 만났다. ... (중략) ... 낙안군수 신호가 서신을 보내왔다. 서신에는 몇 달 전 도요토미 히데요시가 강화 조건으로 명(明)에 무역 재개와 조선의 4도 할양 등을 요구했다는 내용이 적혀 있었다. 분통함을 이길 수가 없었다.

(가)	(나)	(다)	(라)	(마)
나가시노 전투	센고쿠 시대 통일	에도 막부 수립	후금 건국	인조반정
정묘호란				

- ① (가) ② (나) ③ (다) ④ (라) ⑤ (마)

10. (가), (나) 시기 사이에 동아시아에서 있었던 사실로 옳은 것은?

(가) 음력을 폐지하고, 서양의 예에 따라 태양력을 시행하며 올해 12월 3일을 메이지 6년 1월 1일로 삼는다. 또한 하루를 24시간으로 나누고 일요일을 휴일로 정한다.

(나) 우리나라도 태양력을 제정하여 올해 을미년 개국(開國) 504년 11월 17일을 새로운 역법에 따라 505년 1월 1일로 삼고 건양(建陽)을 연호로 세운다.

- ① 한국 - 여권통문이 발표되었다.
- ② 한국 - 대한 제국이 수립되었다.
- ③ 중국 - 홍군이 대장정을 단행하였다.
- ④ 일본 - 대일본 제국 헌법이 반포되었다.
- ⑤ 베트남 - 제1차 사이공 조약이 체결되었다.

11. (가), (나) 조약에 대한 설명으로 옳은 것은? [3점]

동아시아사 수행평가 보고서 3학년 ○반 ○○○

주제: 19세기 동아시아 여행기 작성하기

조건 1. 당시 서양인의 입장이 되어 작성할 것
2. 서구 문물의 수용과 사회 변화가 드러나게 서술할 것

[11월 2일]
상선을 타고 창장강 하구에 있는 도시에 도착했다. 이 도시는 30년 전에 체결된 □(가) (으)로 우리 나라에 개항되었다. 최근 우리 나라 사람이 이 도시에서 신보(申報)라는 신문을 창간했다는 소식을 듣고 찾아 읽어보았다.

[11월 15일]
배를 타고 도쿄와 인접한 항구 도시에 도착했다. 이곳은 본래 한적한 어촌이었으나, 미국에 니가타 등을 개항하기로 한 □(나)의 체결을 계기로 서양 문물이 들어오는 관문이 되었다. 올해 이 도시와 도쿄를 연결하는 일본 최초의 철도가 개통되어 나도 기차를 타고 도쿄로 향하였다.


- ① (가) - 크리스티교 포교의 자유를 인정하였다.
- ② (가) - 외국 군대의 베이징 주둔을 허용하였다.
- ③ (가) - 공행 무역이 폐지되는 결과를 초래하였다.
- ④ (나) - 삼국 간섭이 일어나는 원인이 되었다.
- ⑤ (나) - 운요호 사건이 계기가 되어 체결되었다.

12. (가) 막부 시기의 동아시아 문화에 대한 설명으로 옳은 것은?


역사·미술 융합 수업 활동 안내
- 우키요에 「붉은 후지산」 제작하기 -

1. 우키요에란?
우키요에는 조닌 문화가 번성했던 □(가) 시기에 유행하였습니다. 풍경이나 일상생활 등을 소재로 삼았으며 화려한 색감을 가진 것이 특징입니다. 주로 목판화로 대량 생산되어 서민들이 저렴한 가격에 쉽게 구할 수 있었습니다.


2. 활동 안내
대표적인 우키요에 화가 가쓰시카 호쿠사이의 「붉은 후지산」을 제작하며 □(가) 시기의 문화를 체험해 봅니다.




검정색으로 주요 윤곽을 찍어요.



자홍색으로 노을에 붉게 물든 후지산을 찍어요.



파란색으로 하늘을 찍어요.



남색으로 산 정상을 찍어요.

- ① 한국 - 불국사가 창건되었다.
- ② 중국 - 경극이 유행하였다.
- ③ 중국 - 원강 석굴의 대불이 조성되었다.
- ④ 일본 - 호류사 5층 목탑이 건립되었다.
- ⑤ 일본 - 입당구법순례행기가 저술되었다.

13. (가) 왕조에 대한 설명으로 옳은 것은?

만랄가(滿刺加)*의 사신이 베이징에 도착하여 아뢰기를, “섬라(暹羅)**가 본국을 침략하고자 하여 왕이 입조할 수 없었으며 천자께 상소문을 올리고자 해도 쓸 수 있는 자가 없습니다. 이에 왕이 저를 소문답랄(蘇門答刺)***의 조공선에 태워 보내 이러한 상황을 호소하게 했나이다.”라고 하였다. 이에 □(가)의 황제는 만랄가의 사신을 태감 정화의 함선에 태워 귀국하게 하고, 정화를 통해 섬라에게 인근의 책봉국과 화목하게 지내도록 명하였다.

* 만랄가: 플라카 ** 섬라: 시암 *** 소문답랄: 수마트라

- ① 왜의 노국왕에게 금인을 주었다.
- ② 평성 백등산 전투에서 승리하였다.
- ③ 신포를 발급하여 대외 무역을 통제하였다.
- ④ 고려와 연합하여 일본 원정을 단행하였다.
- ⑤ 무로마치 막부와 조공·책봉 관계를 맺었다.

14. (가), (나) 시기 사이에 있었던 사실로 옳은 것은? [3점]

(가) 광서제의 지지를 받은 강유웨이 등이 의회 제도의 도입 등을 목표로 정치 개혁을 추진하였다. 이에 서태후를 중심으로 하는 보수파가 반발하자 개혁파는 위안스카이에게 서태후 제거 계획을 밝혔다. 그러나 위안스카이가 이 사실을 보수파에게 밀고하였고, 서태후는 군사를 동원하여 광서제를 구금하고 개혁파를 축출하였다.

(나) 쑨원은 혁명군과 대치하고 있던 청의 내각총리대신 위안스카이에게 황제를 물러나게 하면 중화민국 임시 대통령 자리를 양보하겠다고 약속하였다. 위안스카이는 자금성에서 융유태후를 만나 선통제의 퇴위를 강요하였고, 결국 퇴위를 알리는 조서가 반포되면서 청은 멸망하였다.

- ① 교육 칙어가 공포되었다.
- ② 전주 화약이 체결되었다.
- ③ 태평천국 운동이 전개되었다.
- ④ 흥정 헌법 대강이 반포되었다.
- ⑤ 제1차 국·공 협력이 성립되었다.

15. 밑줄 친 '내전'의 영향으로 가장 적절한 것은?

○○에게

오늘 아침에 쌀을 사러 나갔는데, 쌀가게 주인이 어제보다 가격을 두 배나 올려 불렀어. 국민당 정부가 발행한 지폐를 한 뭉치나 가져갔지만 쌀 한 줌도 사기 어려웠어. 이제 이 화폐는 휴지 조각이나 다름없어. 소문에 따르면 공산당이 황허강 이북 지역에서 승리하고, 토지를 농민들에게 나누어 주며 지지를 얻고 있다고 해. 민심이 그쪽으로 기울고 있는 것 같아 불안하지만, 일본이 패망한 다음 해부터 본격화된 내전이 하루빨리 끝나기만을 바랄 뿐이야. 너도 몸조심해.

□□가

- ① 5·4 운동이 일어났다.
- ② 중화 인민 공화국이 수립되었다.
- ③ 국제 연맹이 리튼 조사단을 파견하였다.
- ④ 카이로 회담에서 전후 처리가 논의되었다.
- ⑤ 극동 국제 군사 재판(도쿄 재판)이 개최되었다.

16. 밑줄 친 ‘이 전쟁’에 대한 설명으로 옳은 것만을 <보기>에서 있는 대로 고른 것은? [3점]

저는 현재 적의 침투 규모가 작아지고 우리 측 사상자가 줄어들고 있다는 점에 주목하고 있습니다. 이를 근거로 저는 이 전쟁에서 우리 미군을 후방으로 철수시키고 있습니다. 그러나 만약 적의 군사 행동이 베트남 공화국에 남아 있는 우리 군대를 위협에 빠뜨린다고 판단된다면, 저는 그 상황에 대처하기 위해 즉시 강력하고 단호한 조치를 취하는 데 조금도 주저하지 않을 것입니다.

— <보 기> —
 가. 미드웨이 해전으로 전세가 역전되었다.
 나. 파리 평화 협정이 체결되는 계기가 되었다.
 다. 자위대의 전신인 경찰 예비대가 창설되는 배경이 되었다.

- ① 가 ② 나 ③ 가, 다 ④ 나, 다 ⑤ 가, 나, 다

17. (가) 운동에 대한 설명으로 옳은 것은?



자료는 [가] 을/를 주도한 마오쩌둥의 발언을 바탕으로 제작된 선전물로, 철강을 4천만 톤까지 증산하여 영국을 추월하겠다는 목표가 제시되어 있다. 마오쩌둥은 [가] 의 실시로 조직된 인민공사의 농민들에게 철강 생산을 독려했다. 하지만 철강 증산 노력은 기술력 부족, 근로 의욕 감소 등으로 큰 성과를 거두지 못하였다.

- ① 금릉 기기국이 설립되는 배경이 되었다.
 ② 도이머이 정책의 영향을 받아 실시되었다.
 ③ 사회주의 계획 경제 정책의 일환으로 추진되었다.
 ④ 일본이 뤄순·다롄의 조차권을 차지하는 원인이 되었다.
 ⑤ 중국이 세계 무역 기구[WTO]에 가입하는 계기가 되었다.

18. 다음 기사가 보도된 시기를 연표에서 옳게 고른 것은? [3점]

○○일보 △△△년 △△월 △△일

보수 세력 결집, 거대 여당 공식 출범

어제 일본 정계의 양대 보수 세력이었던 자유당과 일본민주당이 통합을 선언하면서 거대 여당이 공식 출범하였다. 이번 합당은 지난 달 13일, 분열되어 있던 좌·우파 사회당의 통합에 대한 대응으로 보인다. 이로써 거대 여당은 국회 의석의 과반을 차지하게 되었고, 제1 야당인 일본사회당과 대치하는 국면이 형성되었다.

(가)	(나)	(다)	(라)	(마)
-----	-----	-----	-----	-----

일본·타이완 국교 수립	4·19 혁명	한·일 기본 조약 체결	10월 유신 선포	한국·중국 국교 수립	일본, 민주당 정권 출범
-----------------	------------	--------------------	--------------	----------------	---------------------

- ① (가) ② (나) ③ (다) ④ (라) ⑤ (마)

19. ㉠ ~ ㉣ 시기 사이에 동아시아에서 볼 수 있는 모습으로 가장 적절한 것은? [3점]

<잭 런던(Jack London)의 ○○ 전쟁 종군기>

㉠ 압록강 전투를 목격한 다음 날, 일본에 대한 경계심을 담은 기고문을 작성함.

㉡ 전쟁 발발 2개월 후, 일본의 압록강 전투 승리 현장을 목격함.

㉢ 제물포항에서 기습 공격으로 침몰한 러시아 함선의 잔해를 목격하며 전쟁이 일어났음을 알게 됨.

㉣ 개전 이후 처음으로 지상 교전을 목격함.

㉠ ~ ㉣은 시간순

- ① 풍도 해전에 참전하는 군인
 ② 을사조약 체결 소식을 보도하는 기자
 ③ 도쿄 대학의 개교식에 참석하는 학자
 ④ 정보를 수집하는 조선 의용대의 대원
 ⑤ 경인선을 이용하여 한성으로 향하는 관리

20. 밑줄 친 ‘이 전쟁’ 시기에 있었던 사실로 옳은 것은?

이것은 중국 적십자회 난징분회가 난징 대학살의 희생자 수십만 명 중 일부의 시신을 수습하며 기록한 자료입니다. 이 자료를 통해 이 전쟁 초기에 일어난 난징 대학살 당시 일본군에 의한 인명 피해가 심각했음을 알 수 있습니다.

월별	매장된 시신 수
1월	2131
2월	1728
3월	2344
4월	484
5월	300
총계	6987

- ① 만주국이 수립되었다.
 ② 애치슨 라인이 발표되었다.
 ③ 제2차 국·공 협력이 이루어졌다.
 ④ 우창에서 신군(신식 군대)이 봉기하였다.
 ⑤ 일본이 중국에 21개조 요구를 제시하였다.

* 확인 사항
 ○ 답안지의 해당란에 필요한 내용을 정확히 기입(표기)했는지 확인 하시오.